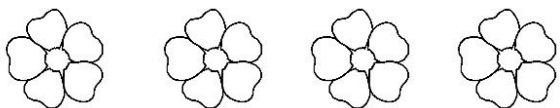
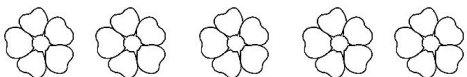


I ниво

1. Определи колку е половина од:



2. Удвој ги дадените примери!



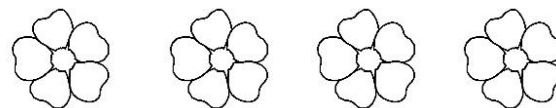
3. Пресметај колку е :

- а) $3 \times 2 =$ б) $6 \times 2 =$ в) $10 \times 2 =$
г) $8 : 2 =$ д) $10 : 2 =$ е) $18 : 2 =$

-удвојува и преполовува броеви до 20

I ниво

1. Определи колку е половина од:



2. Удвој ги дадените примери!



3. Пресметај колку е :

- а) $3 \times 2 =$ б) $6 \times 2 =$ в) $10 \times 2 =$
г) $8 : 2 =$ д) $10 : 2 =$ е) $18 : 2 =$

-удвојува и преполовува броеви до 20

Удвојување и преполовување 29.02.2016

II ниво

1. Удвој ги броевите:

- | | | |
|--------|--------|--------|
| а) 2 | б) 5 | в) 10 |
| г) 20 | д) 15 | ѓ) 50 |
| е) 100 | ж) 130 | з) 240 |

2. Преполови ги броевите:

- | | | |
|--------|--------|--------|
| а) 6 | б) 10 | в) 14 |
| г) 20 | д) 42 | ѓ) 50 |
| е) 100 | ж) 240 | з) 400 |

3. Во еден ден тетка Зора изработила 24 костими. Колку костими ќе изработи за два дена?

Задача: _____

Одговор: _____

- удвојува и преполовува едноцифрени броеви
- удвојува и преполовува двоцифрени броеви
- удвојува и преполовува троцифрени броеви
- решава едноставни секојдневни примери

Удвојување и преполовување 29.02.2016

II ниво

1. Удвој ги броевите:

- | | | |
|--------|--------|--------|
| а) 2 | б) 5 | в) 10 |
| г) 20 | д) 15 | ѓ) 50 |
| е) 100 | ж) 130 | з) 240 |

2. Преполови ги броевите:

- | | | |
|--------|--------|--------|
| а) 6 | б) 10 | в) 14 |
| г) 20 | д) 42 | ѓ) 50 |
| е) 100 | ж) 240 | з) 400 |

3. Во еден ден тетка Зора изработила 24 костими. Колку костими ќе изработи за два дена?

Задача: _____

Одговор: _____

- удвојува и преполовува едноцифрени броеви
- удвојува и преполовува двоцифрени броеви
- удвојува и преполовува троцифрени броеви
- решава едноставни секојдневни примери

Удвојување и преполовување
III ниво 29.02.2016

1. Удвој ги броевите:

- | | | |
|--------|--------|--------|
| а) 7 | б) 12 | в) 19 |
| г) 20 | д) 44 | ѓ) 38 |
| е) 300 | ж) 430 | з) 260 |

2. Преполови ги броевите:

- | | | |
|--------|--------|--------|
| а) 8 | б) 16 | в) 20 |
| г) 24 | д) 32 | ѓ) 50 |
| е) 240 | ж) 760 | з) 300 |

3. Од домот на Теа до училиштето на Теа има 24 км. Колку пат поминува Теа во еден работен ден?

Задача: _____

Одговор: _____

- удвојува и преполовува едноцифрени броеви
- удвојува и преполовува двоцифрени броеви
- удвојува и преполовува троцифрени броеви
- решава секојдневни примери

Удвојување и преполовување
III ниво 29.02.2016

1. Удвој ги броевите:

- | | | |
|--------|--------|--------|
| а) 7 | б) 12 | в) 19 |
| г) 20 | д) 44 | ѓ) 38 |
| е) 300 | ж) 430 | з) 260 |

2. Преполови ги броевите:

- | | | |
|--------|--------|--------|
| а) 8 | б) 16 | в) 20 |
| г) 24 | д) 32 | ѓ) 50 |
| е) 240 | ж) 760 | з) 300 |

3. Од домот на Теа до училиштето на Теа има 24 км. Колку пат поминува Теа во еден работен ден?

Задача: _____

Одговор: _____

- удвојува и преполовува едноцифрени броеви
- удвојува и преполовува двоцифрени броеви
- удвојува и преполовува троцифрени броеви
- решава секојдневни примери

